

5.SINIF 1.ÜNİTE GENEL DEĞERLENDİRME SINAVI

Adı Soyadı :

No:

Sınıf:

A. Aşağıda verilen cümleleri uygun kelimelerle tamamlayınız. (6x 2 P = 12 Puan)

büyük

küçük

365

Dünya

Ay

katman

yıldız

24

uydu

1. Güneş,dünyamıza en yakın birdır.
2. Dünya,Güneşin etrafındaki bir tam turluk dolanımınıgünde tamamlar.
3. Ay,Dünya'dan, Güneş ise Dünya'dantür.
- 4.Dünyanın kendi eksenini etrafındaki 1 tam turluk dönme süresi saattir.
- 5- Ay,nın tek doğaldur.
- 6- Güneşin de tıpkı Dünya gibiları vardır.

B. Aşağıdaki cümlelerden doğru ifade içerenlerin yanındaki kutucuğu "D", yanlış olanların yanındaki kutucuğu ise "Y" harfi ile doldurun. (6x 1 P = 6 Puan)

1. Ay'a, Dünya'dan baktığımızda Ay'ın hep aynı yüzünü görürüz. (.....)
2. Ay'ın dünyadan bakıldığında "D" harfi şeklinde görüldüğü evre yeniaydır. (.....)
3. Ay'ın atmosferi dünyanınkinden çok daha kalındır. (.....)
4. Bir dürbünü güneşe tutup dürbünün arkasına şeffaf kağıt koyarsak güneş lekelerini görmüş oluruz. (.....)
5. Güneşin çekirdeğindeki sıcaklık, yüzeyindeki sıcaklıktan daha azdır. (.....)
6. Ay'ın ara evreleri hilal ve şişkin aydır. (.....)

C. Aşağıda verilen meyve ve sebzeleri Güneş, Dünya ve Ay ile eşleştiriniz.



Karpuz



Ceviz




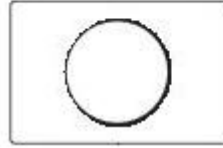

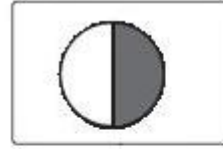
Nohut

Ay

Güneş

Dünya

D.Aşağıda dünyadan görünümleri verilen ayın evrelerinin isimlerini altlarına yazınız.



E.Uzaya çıkan astronotların giydiği aşağıdaki kıyafetin astronotlara ne tür faydalar sağladığını aşağıya yazınız.



ALİ UZUN - FEN BİLİMLERİ ÖĞRETMENİ

F. Aşağıda verilen tabloda boş bırakılan yerlere uygun şekilde (+) koyarak doldurunuz.
(6 x 1 Puan = 8 Puan)

	Kendi eksenini etrafında döner	Dünya etrafında dolanır	Güneş etrafında dolanır
Güneş			
Dünya			
Ay			

G. Aşağıda verilen çoktan seçmeli ve açık uçlu soruların cevaplarını üzerine yazınız.
(Her soru 4 Puan)

1.



Bir gün sonra seninle
sinemaya gidelim.

Evet, çok iyi olur.



Dilara

Yukarıdaki çocuklar arasında geçen konuşmada altı çizili zaman birimi, aşağıdaki olaylardan hangisi sonucu oluşur?

- A) Dünya'nın Güneş etrafında bir tam turu
- B) Dünya'nın kendi etrafında bir tam turu
- C) Ay'ın Dünya etrafındaki bir tam turu
- D) Ay'ın Güneş etrafındaki bir tam turu

2.

Bir cisim, gözlemciye olan uzaklığına bağlı olarak farklı büyüklükte algılanabilir.

Buna göre, aşağıdaki karşılaştırmalardan hangisi yanlıştır?

- A) Aynı arabalardan yakın olan daha büyük görülür.
- B) Güneş ile Ay aynı büyüklükte görülür.
- C) Hava alanında çok büyük gözükken uçak, havalandığında küçük görülür.
- D) Metal para, suya düşünce daha büyük görülür.

3.

"Dünya, Güneş ve Ay'ın şekli benzer."
Dünya, Güneş ve Ay'ın şekli ile ilgili yukarıda verilen cümle aşağıdakilerden hangisi ile tamamlanırsa doğru olur?

- A) küp
- B) koni
- C) piramit
- D) küre

4.

Aşağıdakilerden hangisi ile gök cisimlerini inceleyebiliriz?

A)



B)



C)



D)



5.

Ay, Dünya etrafındaki bir dolanımı sırasında belli şekillerde görülür. Her zaman aynı sırayı izleyen bu görünümlere Ay'ın evreleri denir.

Buna göre, aşağıdakilerden hangisi bu evrelere verilen isimlerden biri değildir?

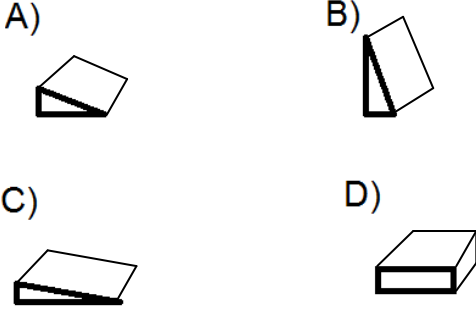
- A) İlk dördün
- B) Yeni Dünya
- C) Dolunay
- D) Son dördün

6- 20 Temmuz 1969 tarihinde Apollo - 11 uzay aracıyla Ay'a ilk kez ayak basan astronotun adı hangi seçenekte doğru olarak verilmiştir?

- A) Yuri Gagarin
- B) Neil Armstrong
- C) Edwin Hubble
- D) Galileo Galilei

ALİ UZUN - FEN BİLİMLERİ ÖĞRETMENİ

7-Aşağıda verilen aynı cins toprak yapısına ve aynı miktarda suya doymuş olan arazilerden hangisinde heyelan olma ihtimali en fazladır?



8.

Ay, ışık kaynağı değildir. Güneşten aldığı ışığı yansıtır.

Buna göre, Ay Güneş'ten aldığı ışığı en fazla hangi evrede iken Dünya'ya yansıtır?

- A) İlk dördün B) Yeni ay
C) Dolunay D) Son dördün

9-



Dünya'nın kendi eksenini etrafında yaptığı dönme hareketinin yönü nedir?

Fen ve teknoloji öğretmenin sorusu hangi seçenekteki öğrenci tarafından doğru cevaplanmıştır?



10-



Yukarıda verilen evreden bir hafta önceki evrenin görünüşü aşağıdakilerin hangisinde doğru çizilmiştir?



11-



Deprem anında yapılan yukarıdaki hareketlerin adları sırasıyla hangi seçenekte doğru olarak verilmiştir?

- A) Masa-Tut-Eğil
B) Eğil - Kafanı Tut- Masaya tut
C) Çök-Kapan-Tutun
D) Kapan -Tutun-Çök

12-

Aşağıdakilerden hangisi deprem öncesi yapılabilecek hazırlıklardan değildir?

- A) Deprem anında hareket edebilecek dolapları önceden sabitlemek
B) Acil ihtiyaçlarımızı karşılayacak bir deprem çantası hazırlamak
C) Gece yatarken cep telefonlarını kapatmak
D) Mobilyaları deprem sırasında çıkışı engellemeyecek şekilde yerleştirmek

8. SINIF AÇIK UÇLU SORU BANKAMIZ ÇIKTI



81 İLDE SEÇKİN BAYİLERDE SATIŞTA

İNTERNET SATIŞ NOKTALARI:

kitapsec.com / kitapyurdu.com / idefix.com / dr.com